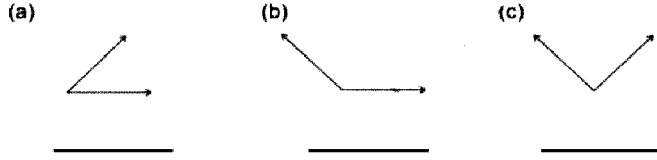


Time: 10 Minutes **Paper Math 4** **Total Marks: 10**

6th Month, 3rd Week, 2nd Day | Syllabus: Unit 6: Review Ex – Q No. 3, 4

Q.No.1. Differentiate right, acute and obtuse angles in the following: (5)

سوال نمبر 1: درج ذیل میں سے قائمہ، حادہ اور منفرجہ زاویے کے درمیان فرق کریں:



Q.No.2. Draw the angles of given measurements: (5)

سوال نمبر 1: دی گئی پیمائش کے زاویے بنائیں:

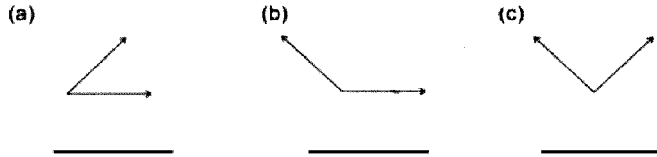
- (i) 135° (ii) 95°

Time: 10 Minutes **Paper Math 4** **Total Marks: 10**

6th Month, 3rd Week, 2nd Day | Syllabus: Unit 6: Review Ex – Q No. 3, 4

Q.No.1. Differentiate right, acute and obtuse angles in the following: (5)

سوال نمبر 1: درج ذیل میں سے قائمہ، حادہ اور منفرجہ زاویے کے درمیان فرق کریں:



Q.No.2. Draw the angles of given measurements: (5)

سوال نمبر 1: دی گئی پیمائش کے زاویے بنائیں:

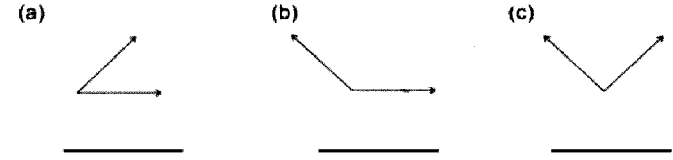
- (i) 135° (ii) 95°

Time: 10 Minutes **Paper Math 4** **Total Marks: 10**

6th Month, 3rd Week, 2nd Day | Syllabus: Unit 6: Review Ex – Q No. 3, 4

Q.No.1. Differentiate right, acute and obtuse angles in the following: (5)

سوال نمبر 1: درج ذیل میں سے قائمہ، حادہ اور منفرجہ زاویے کے درمیان فرق کریں:



Q.No.2. Draw the angles of given measurements: (5)

سوال نمبر 1: دی گئی پیمائش کے زاویے بنائیں:

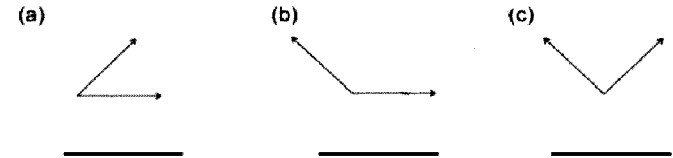
- (i) 135° (ii) 95°

Time: 10 Minutes **Paper Math 4** **Total Marks: 10**

6th Month, 3rd Week, 2nd Day | Syllabus: Unit 6: Review Ex – Q No. 3, 4

Q.No.1. Differentiate right, acute and obtuse angles in the following: (5)

سوال نمبر 1: درج ذیل میں سے قائمہ، حادہ اور منفرجہ زاویے کے درمیان فرق کریں:



Q.No.2. Draw the angles of given measurements: (5)

سوال نمبر 1: دی گئی پیمائش کے زاویے بنائیں:

- (i) 135° (ii) 95°